

نام درس: مدارهای الکتریکی ۱ - مدار الکتریکی

رشته تحصیلی / کد درس: نرم افزار - نرم افزار (تجميع) - سخت افزار - (۱۱۱۵۰۶۵) -

مدیریت اجرایی (۱۱۱۵۱۸۴)

کد سری سؤال: یک (۱)

استفاده از: ماشین حساب

مجاز است.

تعداد سوالات: تستی: ۲۵ تشریحی: ۵

زمان آزمون (دقیقه): تستی: ۶۰ تشریحی: ۶۰

تنها با یاد اوست که دلها آرام می گیرد.

۱. واحد انرژی الکتریکی در یک باتری، در سیستم MKS کدام است؟

الف. آمپر.ثانیه      ب. ژول      ج. وات      د. ولت. ثانیه

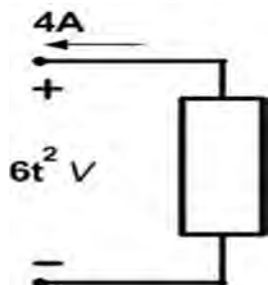
۲. توان جذب شده و انرژی انتقالی در زمان ۱۰ ثانیه را با فرض انرژی اولیه صفر، در عنصر زیر بدست آورید؟

الف.  $P(t) = -24t^2 \text{ W}$  ,  $w(t) = -8000 \text{ W.Sec}$

ب.  $P(t) = 0 \text{ W}$  ,  $w(t) = +8000 \text{ W.Sec}$

ج.  $P(t) = -24t^2 \text{ W}$  ,  $w(t) = +8000 \text{ W.Sec}$

د.  $P(t) = 0 \text{ W}$  ,  $w(t) = -8000 \text{ W.Sec}$



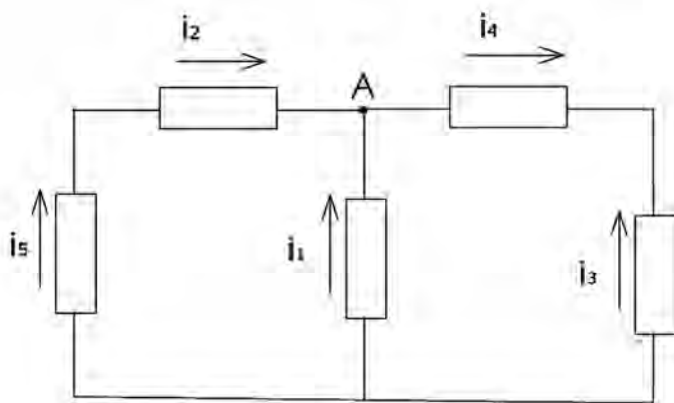
۳. کدامیک بیان کننده KCL برای گره A می باشد؟

الف:  $\sum_{n=1}^3 i_n(t) = 0$

ب.  $i_5 + i_2 + i_1 = i_3 - i_4$

ج.  $\sum_{n=1}^2 i_n(t) = 0$

د.  $\sum_{n=1}^4 i_n(t) = 0$



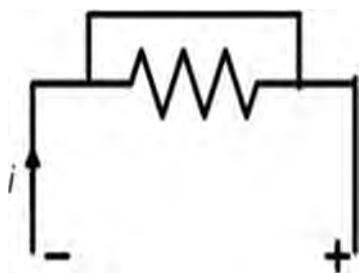
۴. کدام تعریف مناسب عنصر زیر می باشد؟

الف.  $V = \infty, R = 0, G = \infty$

ب.  $V = 0, R = \infty, G = 0$

ج.  $V = \infty, R = \infty, G = 0$

د.  $V = 0, R = 0, G = \infty$



نام درس: مدارهای الکتریکی ۱- مدار الکتریکی

رشته تحصیلی / کد درس: نرم افزار- نرم افزار (تجميع)- سخت افزار- (۱۱۱۵۰۶۵)-

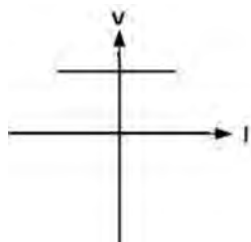
مدیریت اجرایی (۱۱۱۵۱۸۴)

کد سری سؤال: یک (۱)

استفاده از: ماشین حساب

مجاز است.

۵. منحنی مشخصه  $V-I$  روبرو مربوط به کدامیک از گزینه‌ها می‌باشد؟



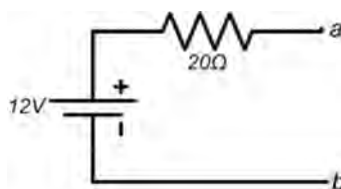
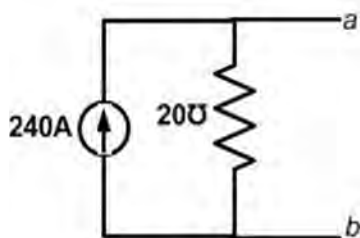
ب. منبع مستقل جریان

الف. مقاومت خطی

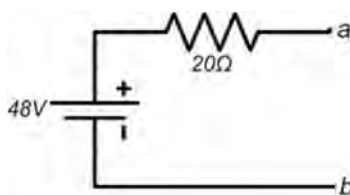
د. مدار باز

ج. منبع مستقل ولتاژ

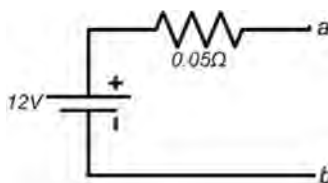
۶. مدار معادل تونن شکل مقابل کدام است؟



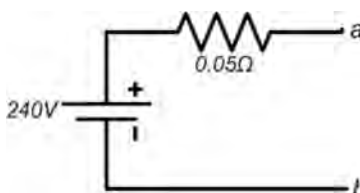
الف.



ب.



ج.



د.

نام درس: مدارهای الکتریکی ۱ - مدار الکتریکی

رشته تحصیلی / کد درس: نرم افزار - نرم افزار (تجميع) - سخت افزار - (۱۱۱۵۰۶۵) -

مدیریت اجرایی (۱۱۱۵۱۸۴)

کد سری سؤال: یک (۱)

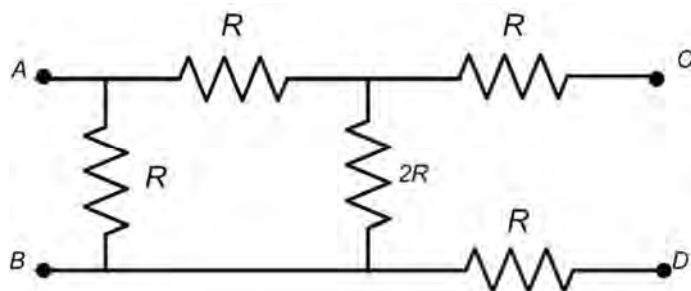
استفاده از: ماشین حساب

مجاز است.

تعداد سوالات: تستی: ۲۵ تشریحی: ۵

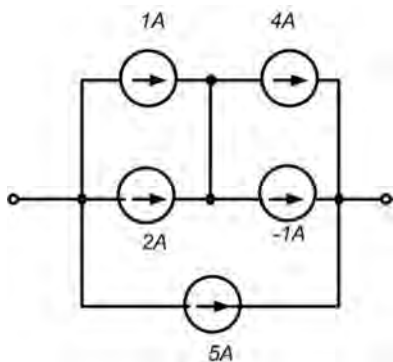
زمان آزمون (دقیقه): تستی: ۶۰ تشریحی: ۶۰

۷. در مدار شکل مقابل نسبت  $\frac{R_{AB}}{R_{CD}}$  کدام است؟



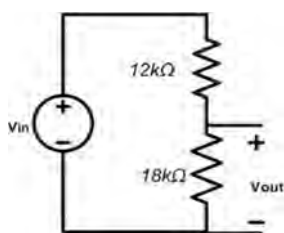
- الف.  $\frac{1}{4}$   
ب.  $\frac{1}{2}$   
ج.  $\frac{3}{4}$   
د. صفر

۸. منبع معادل شکل روبرو چند آمپر است؟



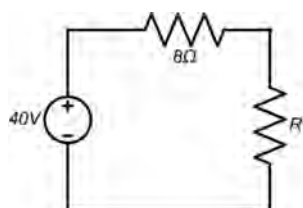
- الف. ۲  
ب. ۴  
ج. ۸  
د. ۱۲

۹. در مدار شکل روبرو  $\frac{V_{out}}{V_{in}}$  چقدر است؟



- الف. ۰.۲  
ب. ۰.۴  
ج. ۱.۵  
د. ۰.۶

۱۰. برای انتقال حداکثر توان به مقاومت R مقدار آن را چند اهم در نظر می گیرید؟



- الف. ۴۰  
ب. ۸  
ج. ۴۸  
د. ۵

نام درس: مدارهای الکتریکی ۱- مدار الکتریکی

رشته تحصیلی / کد درس: نرم افزار- نرم افزار (تجميع)- سخت افزار- (۱۱۱۵۰۶۵)-

مدیریت اجرایی (۱۱۱۵۱۸۴)

کد سری سؤال: یک (۱)

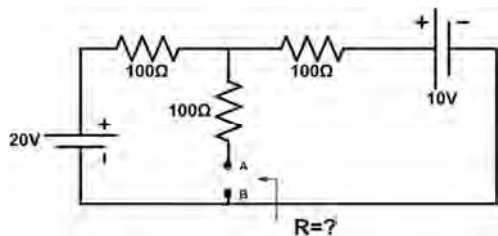
استفاده از: ماشین حساب

مجاز است.

تعداد سوالات: تستی: ۲۵ تشریحی: ۵

زمان آزمون (دقیقه): تستی: ۶۰ تشریحی: ۶۰

۱۱. مقاومت معادل دیده شده از دو نقطه A و B در مدار مقابل چند اهم است؟



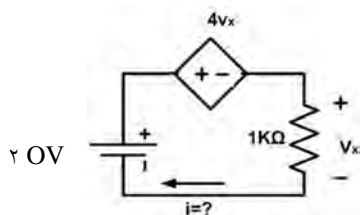
ب. ۱۵۰

الف. ۳۳.۳

د. ۳۰۰

ج. ۲۰۰

۱۲. در مدار مقابل I چند میلی آمپر است؟



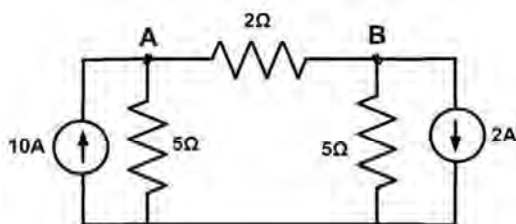
ب. ۲

الف. ۱

د. ۶

ج. ۴

۱۳. در مدار مقابل مقدار ولتاژ  $V_{AB}$  چند ولت است؟



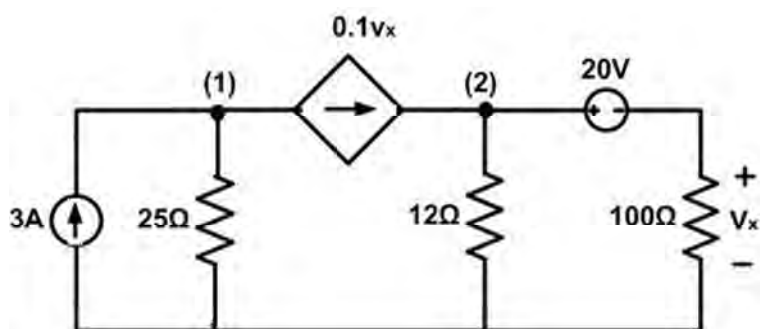
الف. ۱

ج. ۴

ب. ۲

د. ۱۰

۱۴. در مدار داده شده معادله پتانسیل گره برای نقطه (۲) کدام است؟



الف:  $-0.1V_X + \frac{V_2}{12} - \frac{V_X}{100} = 0$

ب.  $-0.1V_X + \frac{V_2}{12} = 0$

ج.  $\frac{V_2}{12} + \frac{V_X}{100} = 0$

د.  $0.1V_X - \frac{V_2}{12} - \frac{V_X}{100} = 0$

نام درس: مدارهای الکتریکی ۱- مدار الکتریکی

رشته تحصیلی / کد درس: نرم افزار- نرم افزار (تجميع)- سخت افزار- (۱۱۱۵۰۶۵)-

مدیریت اجرایی (۱۱۱۵۱۸۴)

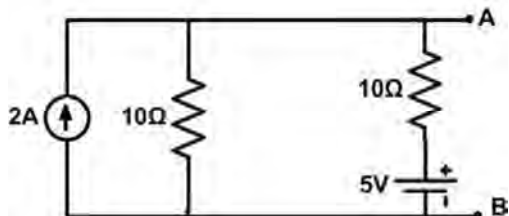
کد سری سؤال: یک (۱)

استفاده از: ماشین حساب

مجاز است.

تعداد سوالات: تستی: ۲۵ تشریحی: ۵  
زمان آزمون (دقیقه): تستی: ۶۰ تشریحی: ۶۰

۱۵. در مدار مقابل  $V_{AB}$  چند ولت است؟



الف. ۱۰ ب. ۱۲.۵

ج. ۲۰ د. ۲۵

۱۶. هر گاه ولتاژ دو سر خازنی به ظرفیت  $10\mu F$  به فرم  $V_c = 20(1 - e^{-100t})$  باشد، جریان آن را محاسبه کنید؟

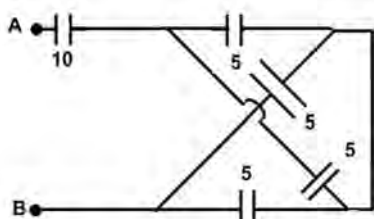
الف.  $I_c = 20e^{-100t} mA$

ب.  $I_c = 10e^{-100t} mA$

ج.  $I_c = 200e^{-100t} mA$

د.  $I_c = 2e^{-100t} mA$

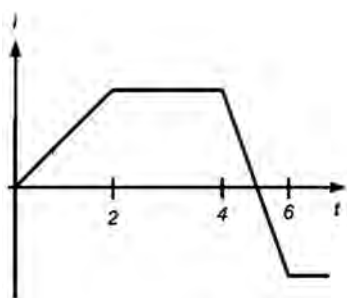
۱۷. اگر ظرفیت خازن‌ها بر حسب میکرو فاراد باشد، ظرفیت خازن معادل بین A و B را بدست آورید؟



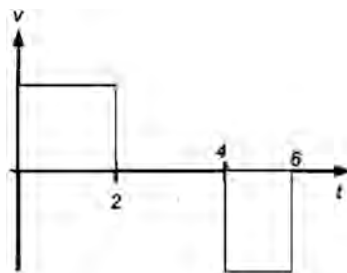
الف. ۱۰ ب.  $\frac{10}{3}$

ج. ۲۰ د. ۳۰

۱۸. نام تنها عنصر موجود در مدار که با اعمال جریان مقابل، ولتاژ دو سر آن مطابق شکل زیر می‌شود چیست؟



الف. خازن



ب. سلف

ج. منبع جریان

د. منبع ولتاژ

نام درس: مدارهای الکتریکی ۱- مدار الکتریکی

رشته تحصیلی / کد درس: نرم افزار- نرم افزار (تجميع)- سخت افزار- (۱۱۱۵۰۶۵)-

مدیریت اجرایی (۱۱۱۵۱۸۴)

کد سری سؤال: یک (۱)

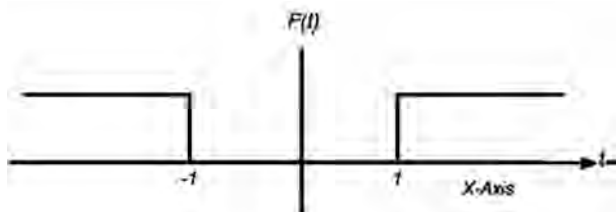
استفاده از: ماشین حساب

مجاز است.

تعداد سوالات: تستی: ۲۵ تشریحی: ۵

زمان آزمون (دقیقه): تستی: ۶۰ تشریحی: ۶۰

۱۹. بیان ریاضی تابع روبرو کدام است؟



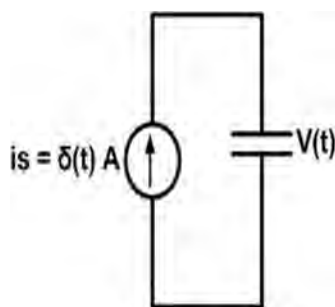
الف.  $f(t) = u(t-1) + u(-t-1)$

ب.  $f(t) = u(-t-1) + u(+t-1)$

ج.  $f(t) = u(t-1) + u(+t-1)$

د.  $f(t) = u(t-1) + u(-t+1)$

۲۰. از خازنی به ظرفیت C و ولتاژ اولیه صفر جریان  $\delta(t)$  آمپر می‌گذرد، ولتاژ  $V(t)$  دو سر خازن کدام است؟



ب.  $u(t)$

د.  $\delta(t)$

الف.  $\frac{1}{C} u(t)$

ج. صفر ولت

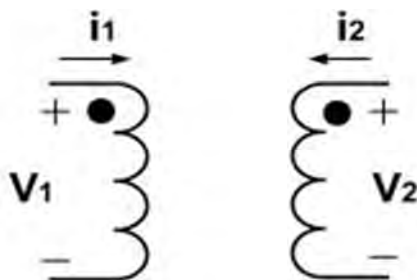
۲۱. در مورد مدار مقابل به ازاء  $i_2 = 0$  کدام گزینه صحیح است؟

ب.  $v_2 = M i_1$

د.  $V_2 = \sqrt{\frac{L_2}{L_1}} i_1$

الف:  $V_2 = M V_1$

ج.  $V_2 = M \frac{di_1}{dt}$



نام درس: مدارهای الکتریکی ۱ - مدار الکتریکی

رشته تحصیلی / کد درس: نرم افزار - نرم افزار (تجميع) - سخت افزار - (۱۱۱۵۰۶۵) -

مدیریت اجرایی (۱۱۱۵۱۸۴)

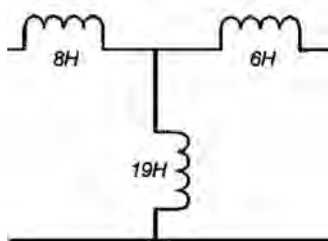
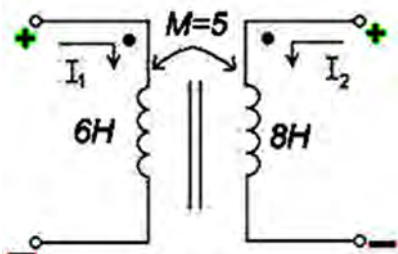
کد سری سؤال: یک (۱)

استفاده از: ماشین حساب

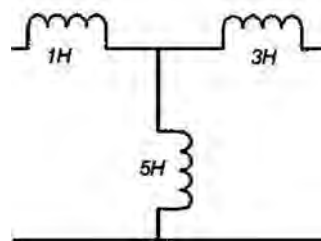
مجاز است.

تعداد سوالات: تستی: ۲۵ تشریحی: ۵  
زمان آزمون (دقیقه): تستی: ۶۰ تشریحی: ۶۰

۲۲. مدار معادل شکل زیر کدام است:

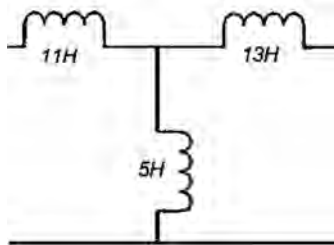


ب.

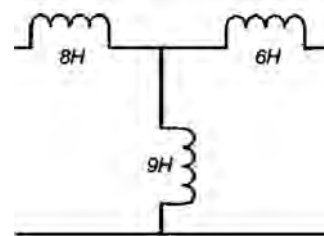


الف.

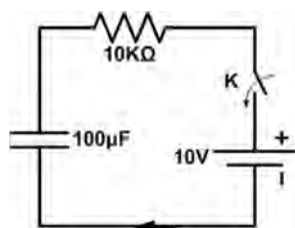
د.



ج.



۲۳. در مدار مقابل در  $t = 0$  کلید K را می بندیم چند ثانیه طول می کشد تا ولتاژ خازن به حداکثر مقدار برسد؟



ب. ۴

الف. ۱

د. هیچکدام

ج. ۲

نام درس: مدارهای الکتریکی ۱- مدار الکتریکی

رشته تحصیلی / کد درس: نرم افزار- نرم افزار (تجميع)- سخت افزار- (۱۱۱۵۰۶۵)-

مدیریت اجرایی (۱۱۱۵۱۸۴)

کد سری سؤال: یک (۱)

استفاده از: ماشین حساب

مجاز است.

تعداد سوالات: تستی: ۲۵ تشریحی: ۵

زمان آزمون (دقیقه): تستی: ۶۰ تشریحی: ۶۰

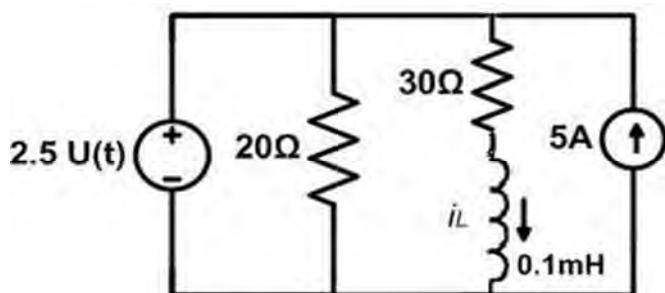
۲۴. در شکل مقابل  $I_L(0^+)$  چند آمپر است؟

الف. ۳

ب. ۰

ج. ۲

د. ۲.۵



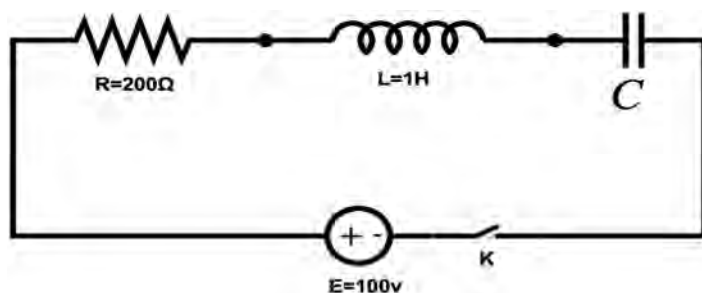
۲۵. ظرفیت خازن چند میکرو فاراد باشد تا با بستن کلید k جریان با میرایی بحرانی تثبیت شود؟

الف. ۶.۲۵

ب. ۷.۲۵

ج.  $\frac{1}{100}$

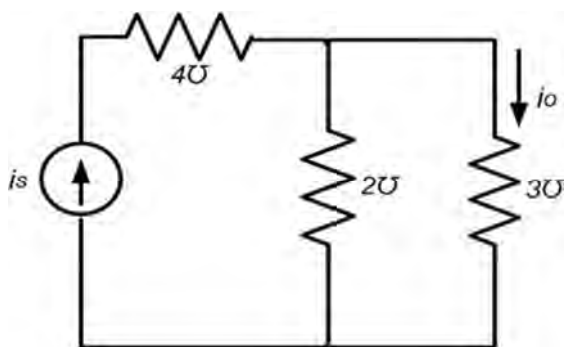
د. ۱۶



سوالات تشریحی

هر سوال ۱/۲ نمره دارد.

۱. در شکل زیر اگر منبع جریان به مقدار  $i_s(t) = 3\cos 2t$  باشد، جریان  $i_o(t)$  را بیابید.



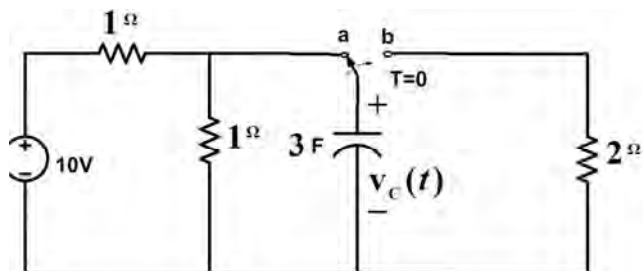


تعداد سوالات: تستی: ۲۵ تشریحی: ۵

زمان آزمون (دقیقه): تستی: ۶۰ تشریحی: ۶۰

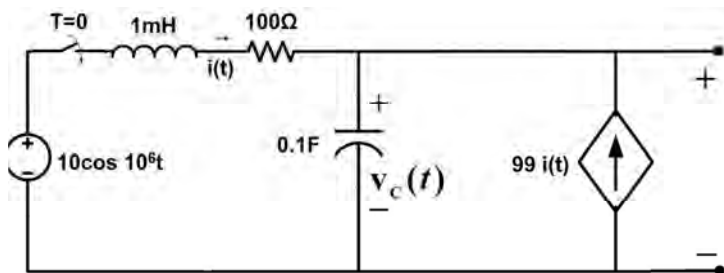
۲. در مدار الکتریکی زیر کلید برای مدتی طولانی در وضعیت a قرار داشته است و در زمان  $t=0$  به وضعیت b تغییر حالت

می دهد در این حالت  $V_c(t)$  را برای  $t \geq 0$  بیابید؟

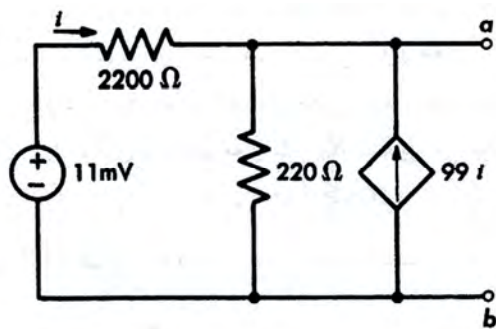


۳. در مدار الکتریکی زیر کلید برای مدتی طولانی باز بوده است و در  $t=0$  بسته می شود. مقدار  $i(t)$  و  $V_c(t)$  را برای

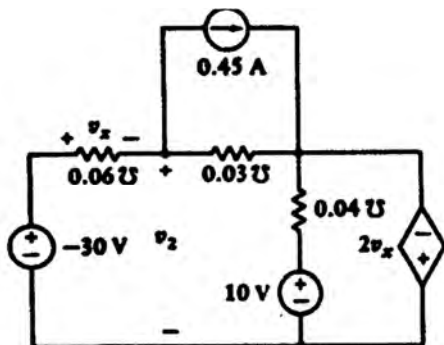
$t \geq 0$  بیابید؟



۴. هم ارز تونن و نورتن را برای مدار زیر بدست آورده و رسم نمائید؟



۵. با استفاده از روش مش، ولتاژ  $V_2$  را در مدار زیر بدست آورید؟





# مرکز آزمون کلید سؤالات تشریحی (محرمانه)



نام درس:

کد درس:

رشته تحصیلی - گرایش:

مقطع:

مدیر ارشد (تشریحی) و مدیر اجرایی

۱۱۵۱۴ - ۶۵ - ۱۱۵۱۴

ترم تابستانه - آذر - مدیریت اجرایی

صفحه: ..... از

سال تحصیلی: ..... نیمسال: اول  دوم  ترم تابستانه  تاریخ آزمون: ۵/۴ ..... بارم: ..... نمره

۱- پرسش صفحه ۴۴

۲- سوال ۸ - صفحه ۱۴۴

۳- سوال ۹ - صفحه ۱۴۶

۴ - صفحه ۷۵

۵ - صفحه ۷۲

ترم دوم ۹۰-۸۹

مدار الکتريکی

ج	1
الف	2
الف	3
د	4
ج	5
ج	6
الف	7
ج	8
د	9
ب.ب	10
ب.ب	11
ج	12
د	13
الف	14
ب.ب	15
الف	16
ب.ب	17
ب.ب	18
الف	19
الف	20
ج	21
الف	22
د	23
ج	24
الف	25